


## TOPLAMA VE ÇIKARMA İŞLEMİ GERKETİREN PROBLEMLER

1) Asiye 84 sayfalık matematik defterinin 59 sayfasını kullandı. Defterde boş kaç sayfa kalmıştır?

2) Tahir ahırındaki 72 inekten 38 tanesini sattı. Tahir'in ahırında kaç tane inek kalmıştır?

3) Yağmur matematik test kitabındaki 65 sorudan 47 tanesini çözdü. Yağmurun çözmediği kaç tane soru kaldı?



4) Zeliha'nın 35 tane hikaye kitabı var. Harçlıklarıyla 28 tane kitap daha aldı. Zeliha'nın toplam kaç tane hikaye kitabı oldu?

5) Okul gezisine iki okul katılacak. Bir okuldan 47 öğrenci, diğer okuldan da 39 öğrenci katıldı. Bu geziye toplam kaç öğrenci katıldı?

6) Bir etli ekmekçi öğleye kadar 42 hamur kullandı. Öğleden sonra da 47 hamur kullandı. Bugün kaç adet hamur kullanıldı?



7) Bekir elindeki 92 simitten 56 tanesini sattı. Bekir'in elinde kaç tane simit kaldı?

8) Bir otoparkta 58 araç vardı. Az sonra 24 araç daha park etti. Otoparkta toplam kaç tane araç oldu?

9) Ülkemizde 81 tane il var. Bunlardan 30 tanesi büyükşehirdir. Büyükşehir olmayan il sayısı kaçtır?

# TOPLAMA VE ÇIKARMA İŞLEMİ GERKETİREN PROBLEMLER

1) Sadettin'in 87 TL'si vardı. 15 TL'ye kalem, 33 TL'ye de kitap aldı. Sadettin'in elinde kaç TL kaldı?

2) Bir manav halden 94 kasa marul aldı. Sabah 47 kasa, öğleden sonra da 29 kasa marul sattı. Satılamayan kaç kasa marul kaldı?



3) Kenan'ın kitaplığında 62 kitap vardı. Osman 15 kitap, Orhan 12 kitap hediye etti. Kenan'ın kitaplığında toplam kaç adet kitap olmuştur?



4) 90 kişilik tiyatro salonunda 37 erkek, 42 kız öğrenci vardır. Salonda kaç tane boş yer kalmıştır?

5) 50 kiloluk un çuvalının önce 27 kilosunu, sonra da 18 kilosunu sattık. Elimizde kaç kilo un kaldı?

6) Çok amaçlı salonda 94 adet sandalye vardı. Sandalyelerin 38 tanesi kırıldı. Daha sonra 28 tane sandalye alındı. Salonumuzda toplam kaç tane sandalye olmuştur?



7) Bahçemize 45 adet ceviz, 51 adet kiraz ektik. Bu ağaçların 27 tanesi kurudu. Bahçemizde toplam kaç tane ağaç kalmıştır?

8) Uğur'un elinde 99 TL vardı. Elektrik faturasına 57 TL, su faturasına 39 TL ödedi. Uğur'un elinde kaç TL kaldı?

9) A sınıfında 19 öğrenci, B sınıfında ise 18 öğrenci vardır. Toplam 70 öğrenci olabilmesi için kaç öğrenciye daha ihtiyaç vardır?

# TOPLAMA VE ÇIKARMA İŞLEMİ GERKETİREN PROBLEMLER

1) 87 sayısının 59 eksiğinin  
63 fazlası kaçtır?

2) 91 sayısının 67 eksiğinin  
46 fazlası kaçtır?

3) 77 sayısının 43 eksiğinin  
59 fazlası kaçtır?

4) 34 sayısının 27 fazlasının  
38 fazlası kaçtır?

5) 18 sayısının 44 fazlasının  
26 fazlası kaçtır?

6) 96 sayısının 38 eksiğinin  
29 eksiği kaçtır?

7) 75 sayısının 47 eksiğinin  
18 eksiği kaçtır?

8) 43 sayısının 50 fazlasının  
79 eksiği kaçtır?

9) 29 sayısının 46 fazlasının  
50 eksiği kaçtır?

# TOPLAMA VE ÇIKARMA İŞLEMİ GERKETİREN PROBLEMLER

1) 60 sayısının 41 eksiğinin  
53 fazlası kaçtır?

2) 92 sayısının 77 eksiğinin  
50 fazlası kaçtır?

3) 55 sayısının 36 fazlasının  
75 eksiği kaçtır?



4) 17 sayısının 54 fazlasının  
26 fazlası kaçtır?

5) 90 sayısının 38 eksiğinin  
26 eksiği kaçtır?






6) 78 sayısının 47 eksiğinin  
56 fazlası kaçtır?



7) 42 sayısının 37 fazlasının  
58 eksiği kaçtır?

8) 26 sayısının 34 fazlasının  
36 fazlası kaçtır?

9) 82 sayısının 45 eksiğinin  
37 fazlası kaçtır?

				
Yaş Pasta	Oyuncak	Çekiç	Fırça	Flüt
58 TL	35 TL	26 TL	19 TL	23 TL

Yıldız Markette satılan ürünlerle ilgili soruları cevaplayın.

1) Elimizde 98 TL vardı. Yıldız Marketten yaş pasta ile oyuncak aldık. Elimizde kaç TL kaldı?

2) Elimizde 87 TL vardı. Yıldız Marketten çekiç ile flüt aldık. Elimizde kaç TL kaldı?

3) Elimizde 90 TL vardı. Yıldız Marketten fırça ile oyuncak aldık. Elimizde kaç TL kaldı?

4) Elimizde 93 TL vardı. Yıldız Marketten yaş pasta ile flüt aldık. Elimizde kaç TL kaldı?

5) Elimizde 82 TL vardı. Yıldız Marketten fırça ile flüt aldık. Elimizde kaç TL kaldı?

6) Elimizde 95 TL vardı. Yıldız Marketten çekiç ile oyuncak aldık. Elimizde kaç TL kaldı?

7) Elimizde 99 TL vardı. Yıldız Marketten çekiç, fırça ve flüt aldık. Elimizde kaç TL kaldı?

8) Elimizde 86 TL vardı. Yıldız Marketten oyuncak ile fırça aldık. Elimizde kaç TL kaldı?

9) Aslı oyuncak ile çekiç, Selin flüt ile fırça aldı. Hangisi daha fazla ödeme yapmıştır?

				
Makas	Kilim	Gözlük	Telefon	Düdük
15 TL	40 TL	32 TL	39 TL	12 TL

Fatih'in dükkânında satılan ürünler ve fiyatları verildi. Soruları okuyunuz ve verilen fiyatlara göre cevaplayınız.

1) Furkan dükkândan makas ile gözlük aldı. Kaç TL ödedi?

2) Selami dükkândan kilim ile düdük aldı. Kaç TL ödedi?

3) Serkan dükkândan telefon ile makas aldı. Kaç TL ödedi?

4) Hayri dükkândan gözlük ile düdük aldı. Kaç TL ödedi.

5) Leman'da 97 TL var. Dükkândan kilim ile telefon aldı. Elinde kaç TL kaldı?

6) Ziya'da 86 TL var. Dükkândan makas ile düdük aldı. Elinde kaç TL kaldı?

7) Mahmut'ta 76 TL var. Dükkândan gözlük ile telefon aldı. Elinde kaç TL kaldı?

8) Şakir'de 81 TL var. Dükkândan makas, gözlük ve düdük aldı. Elinde Kaç TL kaldı?

9) Nejat dükkândan kilim, telefon ve düdük aldı. Kaç TL ödedi?